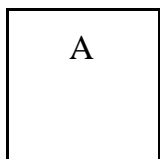
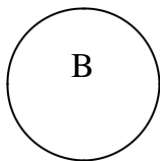


TỔNG HỢP KIẾN THỨC TOÁN LỚP 1 – SÁCH MỚI

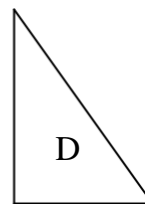
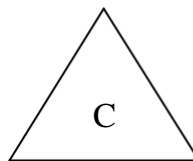
1. Hình vuông, hình tròn, hình tam giác



A là hình vuông.



B là hình tròn.



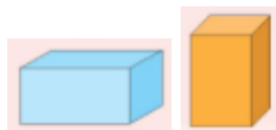
C và D là hình tam giác.

2. Hình khối trong không gian

Khối lập phương



Khối hình chữ nhật




3. Vị trí định hướng trong không gian.



Trên



Dưới



Sau



Trước

Trái



Ở giữa



Phải

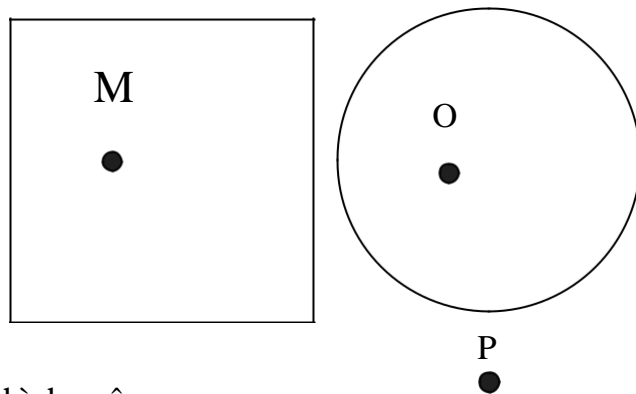
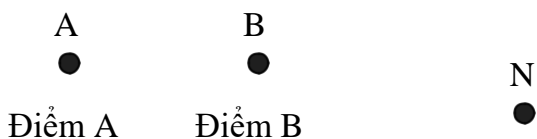
4. Dấu lớn hơn, bé hơn, bằng nhau.

$>$ $<$ $=$

Ví dụ:
 $9 > 5$: chín lớn hơn năm
 $6 < 8$: sáu bé hơn tám
 $7 = 7$: bảy bằng bảy

5. Số bé nhất có 1 chữ số là số: 0
 Số lớn nhất có 1 chữ số là số: 9
 Số bé nhất có 2 chữ số là số: 10
 Số lớn nhất có 2 chữ số là số: 99
 Số bé nhất có 3 chữ số là số: 100

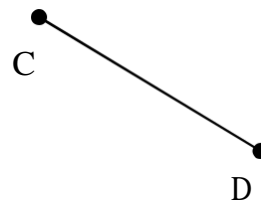
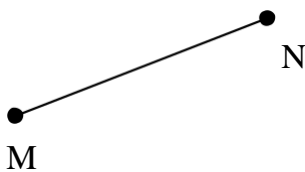
6. Điểm, điểm ở trong và ở ngoài 1 hình



Điểm M ở trong hình vuông, điểm N ở ngoài hình vuông.

Điểm O ở trong hình tròn, điểm P ở ngoài hình tròn.

7. Đoạn thẳng, đo độ dài đoạn thẳng




Ta có: đoạn thẳng AB

Đoạn thẳng MN

Đoạn thẳng CD

Muốn đo độ dài các đoạn thẳng ta dùng thước có đơn vị đo là xăng-ti-mét viết tắt là cm.



Đoạn A: Đoạn A dài hơn đoạn B

Đoạn B: Đoạn B ngắn hơn đoạn A

Đoạn C: Đoạn B = Đoạn C

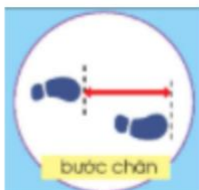
Một số cách đo độ dài bằng cách ước lượng:

Sải tay

Gang tay

Bước chân

Viên gạch

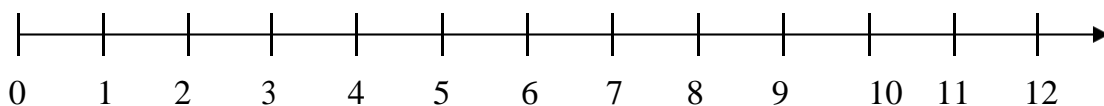


8. 1 chục, tia số

10 đơn vị = 1 chục

20 quả cam = 2 chục quả cam

30 que tính = 3 chục que tính



9. Phép cộng thêm hàng đơn vị và phép trừ bớt đi hàng đơn vị

14

$$\text{a) } 14 + 3 = 1 \text{ chục } 4 \text{ đơn vị cộng thêm } 3 \text{ đơn vị} = 1 \text{ chục } 7 \text{ đơn vị} = \begin{array}{r} + 3 \\ 14 \\ \hline 17 \end{array}$$

$$\text{b) } 17 - 4 = 1 \text{ chục } 7 \text{ đơn vị trừ đi } 4 \text{ đơn vị} = 1 \text{ chục } 3 \text{ đơn vị} = 13 \equiv \begin{array}{r} 17 \\ - 4 \\ \hline 13 \end{array}$$

10. So sánh số có 2 chữ số

Cho 2 số \overline{ab} và \overline{cd} Trong đó: a và c là hàng chục
b và d là hàng đơn vị.

Ví dụ:

$$25 > 19$$

$$25 < 29$$

Ta sẽ so sánh hàng chục trước, sau đó so sánh hàng đơn vị.

Nếu $a = b, c = d$ thì hai số đó bằng nhau.

11. Bảng cộng trừ trong phạm vi 10.

$1 + 1 = 2$	$2 + 1 = 3$	$3 + 1 = 4$	$4 + 1 = 5$	$5 + 1 = 6$	$6 + 1 = 7$	$7 + 1 = 8$	$8 + 1 = 9$
$1 + 2 = 3$	$2 + 2 = 4$	$3 + 2 = 5$	$4 + 2 = 6$	$5 + 2 = 7$	$6 + 2 = 8$	$7 + 2 = 9$	$8 + 2 = 10$
$1 + 3 = 4$	$2 + 3 = 5$	$3 + 3 = 6$	$4 + 3 = 7$	$5 + 3 = 8$	$6 + 3 = 9$	$7 + 3 = 10$	
$1 + 4 = 5$	$2 + 4 = 6$	$3 + 4 = 7$	$4 + 4 = 8$	$5 + 4 = 9$	$6 + 4 = 10$		
$1 + 5 = 6$	$2 + 5 = 7$	$3 + 5 = 8$	$4 + 5 = 9$	$5 + 5 = 10$			
$1 + 6 = 7$	$2 + 6 = 8$	$3 + 6 = 9$	$4 + 6 = 10$				
$1 + 7 = 8$	$2 + 7 = 9$	$3 + 7 = 10$					
$1 + 8 = 9$	$2 + 8 = 10$						
$1 + 9 = 10$							
$3 - 1 = 2$	$4 - 1 = 3$	$5 - 1 = 4$	$6 - 1 = 5$	$7 - 1 = 6$	$8 - 1 = 7$	$9 - 1 = 8$	$10 - 1 = 9$
$4 - 2 = 2$	$5 - 2 = 3$	$6 - 2 = 4$	$7 - 2 = 5$	$8 - 2 = 6$	$9 - 2 = 7$	$10 - 2 = 8$	
$5 - 3 = 2$	$6 - 3 = 3$	$7 - 3 = 4$	$8 - 3 = 5$	$9 - 3 = 6$	$10 - 3 = 7$		
$6 - 4 = 2$	$7 - 4 = 3$	$8 - 4 = 4$	$9 - 4 = 5$	$10 - 4 = 6$			
$7 - 5 = 2$	$8 - 5 = 3$	$9 - 5 = 4$	$10 - 5 = 5$				
$8 - 6 = 2$	$9 - 6 = 3$	$10 - 6 = 4$					
$9 - 7 = 2$	$10 - 7 = 3$						
$10 - 8 = 2$							

12. Phép cộng không nhớ trong phạm vi 100

Cho 2 số \overline{ab} và \overline{cd} . Trong đó: a và c là hàng chục
b và d là hàng đơn vị.

Ví dụ: 17

$$+ 52$$

Ta sẽ lấy $b + d$ và $a + c$. Cộng hàng đơn vị trước, hàng chục sau.

69

Chú ý: vì đây là phép cộng không nhớ nên $a + c < 10$ và $b + d < 10$.

13. Phép trừ không nhớ trong phạm vi 100

Cho 2 số \overline{ab} và \overline{cd} . Trong đó: a và c là hàng chục
b và d là hàng đơn vị.

Ví dụ: 99

$$- 54$$

Ta sẽ lấy $b - d$ và $a - c$. Trừ hàng đơn vị trước, trừ hàng chục sau.

45

Chú ý: vì đây là phép trừ không nhớ nên $a > c$ và $b > d$.

14. Xem giờ, thời gian, các ngày trong tuần

- Trên mặt đồng hồ số thường có 12 số. Các số đó chạy từ 1 đến 12.

Khi kim ngắn chỉ số 3, kim dài chỉ số 12 thì lúc đó là 3 giờ đúng.

- 1 tuần có 7 ngày. Các ngày trong tuần gọi là các thứ.

Thứ 2, thứ 3, thứ 4, thứ 5, thứ 6, thứ 7, chủ nhật.

